

TECNOLOGÍA




NOMBRE Y APELLIDO:


GRADO:

FECHA:


LAS IMÁGENES CORRESPONDEN A PRODUCTOS TECNOLÓGICOS QUE UTILIZAMOS EN LA ESCUELA Y EN EL HOGAR. ¿TE ANIMÁS A UNIR CON UNA FLECHA EL NOMBRE QUE CORRESPONDE A CADA IMAGEN?



COCINA




COMPUTADORA



TELEVISOR



HELADERA



VENTILADOR

TECNOLOGÍA 1



NOMBRE Y APELLIDO:

GRADO:

FECHA:

ELIGE 3 PRODUCTOS DE LA ACTIVIDAD ANTERIOR Y COMPLETA EL SIGUIENTE CUADRO

ELEMENTO

FUNCIÓN

BENEFICIOS

ESCRIBE 4 PRODUCTOS TECNOLÓGICOS QUE CONOZCAS Y QUE NO SE ENCUENTREN EN LA LISTA ANTERIOR.